

This Question Paper consists of 51 questions and 22 printed pages + 1 Outline Map of India.  
इस प्रश्न-पत्र में 51 प्रश्न तथा 22 मुद्रित पृष्ठ + 1 भारत का रेखा-मानचित्र है।

Roll No. 

|  |  |  |  |  |  |  |  |  |  |  |  |
|--|--|--|--|--|--|--|--|--|--|--|--|
|  |  |  |  |  |  |  |  |  |  |  |  |
|--|--|--|--|--|--|--|--|--|--|--|--|

  
अनुक्रमांक

Code No. 69/MAY/4  
कोड संख्या

Set / सेट – 

|   |
|---|
| B |
|---|

**SOCIAL SCIENCE**  
**सामाजिक विज्ञान**  
**(213)**

**Day and Date of Examination**  
(परीक्षा का दिन व दिनांक)

\_\_\_\_\_

**Signature of Invigilators**

1. \_\_\_\_\_

(निरीक्षकों के हस्ताक्षर)

2. \_\_\_\_\_

**General Instructions :**

1. Candidate must write his/her Roll Number on the first page of the Question Paper.
2. Please check the Question Paper to verify that the total pages and the total number of questions contained in the Question Paper are the same as those printed on the top of the first page. Also check to see that the questions are in sequential order.
3. For the objective type of questions, you have to choose any **one** of the four alternatives given in the questions i.e. (A), (B), (C) and (D) and indicate your correct answer in the Answer-Book given to you.
4. All the questions including objective type questions are to be answered within the allotted time and no separate time limit is fixed for answering objective type questions.
5. Making any identification mark in the Answer-Book or writing Roll Number anywhere other than the specified places will lead to disqualification of the candidate.
6. Candidate will not be allowed to take Calculator, Mobile Phone, Bluetooth, Earphone or any such electronic devices in the Examination Hall.
7. In case of any doubt or confusion in the Question Paper, the English Version will prevail.
8. Write your Question Paper Code No. **69/MAY/4, Set-

|   |
|---|
| B |
|---|** on the Answer-Book.

9. (a) The Question Paper is in English/Hindi medium only. However, if you wish, you can answer in any **one** of the languages listed below :  
English, Hindi, Urdu, Punjabi, Bengali, Tamil, Malayalam, Kannada, Telugu, Marathi, Oriya, Gujarati, Konkani, Manipuri, Assamese, Nepali, Kashmiri, Sanskrit and Sindhi. You are required to indicate the language you have chosen to answer in the box provided in the Answer-Book.
- (b) If you choose to write the answer in the language other than Hindi and English, the responsibility for any errors/mistakes in understanding the questions will be yours only.

**सामान्य अनुदेश :**

1. परीक्षार्थी प्रश्न-पत्र के पहले पृष्ठ पर अपना अनुक्रमांक अवश्य लिखें।
2. कृपया प्रश्न-पत्र को जाँच लें कि प्रश्न-पत्र के कुल पृष्ठों तथा प्रश्नों की उतनी ही संख्या है जितनी प्रथम पृष्ठ के सबसे ऊपर छपी है। इस बात की जाँच भी कर लें कि प्रश्न क्रमिक रूप में हैं।
3. वस्तुनिष्ठ प्रश्नों में आपको चार विकल्पों (A), (B), (C) तथा (D) में से कोई एक उत्तर चुनना है तथा दी गई उत्तर-पुस्तिका में सही उत्तर लिखना है।
4. वस्तुनिष्ठ प्रश्नों के साथ-साथ सभी प्रश्नों के उत्तर निर्धारित अवधि के भीतर ही देने हैं। वस्तुनिष्ठ प्रश्नों के लिए अलग से समय नहीं दिया जाएगा।
5. उत्तर-पुस्तिका में पहचान-चिह्न बनाने अथवा निर्दिष्ट स्थानों के अतिरिक्त कहीं भी अनुक्रमांक लिखने पर परीक्षार्थी को अयोग्य ठहराया जायेगा।
6. परीक्षार्थी को परीक्षा हॉल में कैल्कुलेटर, मोबाइल फोन, ब्लूटूथ, इयरफोन जैसे किसी भी इलेक्ट्रॉनिक उपकरण को ले जाने की अनुमति नहीं है।
7. प्रश्न-पत्र में किसी भी प्रकार के संदेह अथवा दुविधा की स्थिति में अंग्रेजी अनुवाद ही मान्य होगा।
8. अपनी उत्तर-पुस्तिका पर प्रश्नपत्र की कोड संख्या **69/MAY/4, Set-B** लिखें।
9. (क) प्रश्न-पत्र केवल अंग्रेजी/हिंदी माध्यम में है। फिर भी, यदि आप चाहें तो नीचे दी गई किसी एक भाषा में उत्तर दे सकते हैं :  
अंग्रेजी, हिंदी, उर्दू, पंजाबी, बंगला, तमिल, मलयालम, कन्नड़, तेलुगू, मराठी, उड़िया, गुजराती, कोंकणी, मणिपुरी, असमिया, नेपाली, कश्मीरी, संस्कृत और सिंधी।  
कृपया उत्तर-पुस्तिका में दिए गए बॉक्स में लिखें कि आप किस भाषा में उत्तर लिख रहे हैं।
- (ख) यदि आप हिंदी एवं अंग्रेजी के अतिरिक्त किसी अन्य भाषा में उत्तर लिखते हैं तो प्रश्नों को समझने में होने वाली त्रुटियों / गलतियों की जिम्मेदारी केवल आपकी होगी।

**NOTE / निर्देश :**

- (1) Answers of all questions are to be given in the Answer-Book given to you.  
सभी प्रश्नों के उत्तर आपको दी गयी उत्तर पुस्तिका में ही लिखें।
- (2) 15 minutes time has been allotted to read this question paper. The question paper will be distributed at 02.15 p.m. From 02.15 p.m. to 02.30 p.m., the students will read the question paper only and will not write any answer on the answer-book during this period.  
इस प्रश्न-पत्र को पढ़ने के लिए 15 मिनट का समय दिया गया है। प्रश्न-पत्र का वितरण दोपहर में 02.15 बजे किया जाएगा। 02.15 बजे से 02.30 बजे तक छात्र केवल प्रश्न-पत्र को पढ़ेंगे और इस अवधि के दौरान वे उत्तर-पुस्तिका पर कोई उत्तर नहीं लिखेंगे।

**SOCIAL SCIENCE**  
**सामाजिक विज्ञान**  
**(213)**

**Time : 3 Hours ]**

**[ Maximum Marks : 100**

**समय : 3 घण्टे ]**

**[ पूर्णांक : 100**

**Note :**

- (i) This question paper consists of **51** questions in all.
- (ii) **All** questions are **compulsory**.
- (iii) Marks are given against each question.
- (iv) **Section - A** consists of
  - (a) **Q. No. 1 to 20** - Multiple Choice Type Questions (MCQs) carrying **1** mark each. Select and write the most appropriate option out of the four options given in each of these questions. Alternative questions are given in lieu of Question No. 7 to 10 for **Visually Impaired Candidates Only**.
  - (b) **Q. No. 21 to 35** - Objective type questions carrying **2** marks each (with **2** sub parts of **1** mark each in some of these questions). Attempt these questions as per the instructions given for each of the questions.
- (v) **Section - B** consists of
  - (a) **Q. No. 36 to 41** - Very Short answer type questions carrying **2** marks each to be answered in the range of **30 to 50** words. Attempt these questions as per the instructions given for each of the questions.
  - (b) **Q. No. 42 to 47** - Short answer type questions carrying **3** marks each to be answered in the range of **50 to 80** words.
  - (c) **Q. No. 48 & 49 - Skill (Map) based questions** carrying **4** marks each. (Alternative questions are given in lieu of map based questions for **Visually Impaired Candidates**.)
  - (d) **Q. No. 50 & 51** - Long Answer type questions carrying **6** marks each to be answered in the range of **80 to 120** words.
  - (e) An internal choice has been provided in some of these questions. You have to attempt only **one** of the given choices in such questions.

**निर्देश :**

- (i) इस प्रश्नपत्र में कुल **51** प्रश्न हैं।
- (ii) सभी प्रश्न अनिवार्य हैं।
- (iii) सभी प्रश्नों के अंक उनके साथ दिये गये हैं।
- (iv) खण्ड - अ के प्रश्न में सम्मिलित हैं
  - (a) प्रश्न संख्या 1 से 20 तक 1 अंक वाले बहुविकल्पीय प्रकार के प्रश्न (MCQs) हैं। दिये गये चार विकल्पों में से सर्वाधिक उपयुक्त विकल्प को चुनें तथा लिखें। दृष्टिबाधित छात्रों हेतु प्रश्न संख्या 7 से 10 के स्थान पर वैकल्पिक प्रश्न दिये गये हैं।
  - (b) प्रश्न संख्या 21 से 35 तक 2 अंक वाले वस्तुनिष्ठ प्रकार के प्रश्न हैं। (इनमें से कुछ प्रश्नों में प्रत्येक 1 अंक के 2 उप-भागों के साथ)। इन प्रश्नों का उत्तर प्रश्नों के साथ दिये गये निर्देशों के अनुसार दीजिये।
- (v) खण्ड - ब के प्रश्न
  - (a) प्रश्न संख्या 36 से 41 तक 2 अंक वाले अति लघु-उत्तरीय प्रकार के प्रत्येक प्रश्न का उत्तर 30 से 50 शब्दों में दीजिये। इन प्रश्नों का उत्तर प्रश्नों के साथ दिये गये निर्देशों के अनुसार दें।
  - (b) प्रश्न संख्या 42 से 47 तक 3 अंक वाले लघु-उत्तरीय प्रकार के प्रत्येक प्रश्न का उत्तर 50 से 80 शब्दों में दें।
  - (c) प्रश्न संख्या 48 एवं 49 - कौशल (मानचित्र) पर आधारित 4 अंक वाले प्रश्न हैं। (दृष्टिबाधित छात्रों हेतु मानचित्र पर आधारित प्रश्नों के स्थान पर वैकल्पिक प्रश्न दिये गये हैं।)
  - (d) प्रश्न संख्या 50 एवं 51 - 6 अंक वाले दीर्घ-उत्तरीय प्रकार के प्रत्येक प्रश्न का उत्तर 80 से 120 शब्दों में दें।
  - (e) कुछ प्रश्नों में आंतरिक चयन की सुविधा दी गयी है। आपको दो विकल्पों में से केवल एक प्रश्न करना है।

SECTION - A

खण्ड - अ

1 Indian National Congress was founded by who among the following ? 1

- (A) Gopal Krishna Gokhale (B) M. K. Gandhi  
(C) Lord Curzon (D) A. O. Hume

भारतीय राष्ट्रीय कांग्रेस की स्थापना निम्नलिखित में से किसके द्वारा की गई ?

- (A) गोपाल कृष्ण गोखले (B) एम. के. गाँधी  
(C) लॉर्ड कर्जन (D) ए. ओ. ह्यूम

2 Who introduced the permanent settlement in Bengal and Bihar? 1

- (A) Lord Irwin (B) Robert Brown  
(C) Lord Cornwallis (D) Sir Thomas Roe

बंगाल और बिहार में स्थायी बंदोबस्त की शुरुआत किसने की ?

- (A) लॉर्ड इरविन (B) रॉबर्ट ब्राउन  
(C) लॉर्ड कॉर्नवालिस (D) सर थॉमस रो

3 Who one from the following started working for the Home Rule Movement in 1914? 1

- (A) Mrs. Annie Besant (B) Lala Lajpat Rai  
(C) Jawahar Lal Nehru (D) Muhammad Ali Zinnah

निम्नलिखित में से किसने 1914 में होम रूल आंदोलन के लिए काम करना शुरू किया ?

- (A) श्रीमती एनी बेसेंट (B) लाला लाजपत राय  
(C) जवाहर लाल नेहरु (D) मुहम्मद अली जिन्ना

4 At which one from the following place, Gandhiji inspired the peasants to struggle against oppressive plantation system? 1

- (A) Kheda in Gujarat (B) Champaran in Bihar  
(C) Ahmedabad in Gujarat (D) Dandi

निम्नलिखित में से किस स्थान पर गांधीजी ने किसानों को दमनकारी वृक्षारोपण प्रणाली के विरुद्ध संघर्ष करने के लिए प्रेरित किया ?

- (A) गुजरात में खेड़ा (B) बिहार में चंपारण  
(C) गुजरात में अहमदाबाद (D) दांडी

5 In 1615, who received permission from the Mughal emperor Jahangir to open more factories in Agra ? 1

- (A) St. George (B) Lord Cornwallis  
(C) Lord Irwin (D) Sir Thomas Roe

1615 में मुगल बादशाह जहाँगीर से आगरा में और अधिक कारखाने खोलने की अनुमति किसने प्राप्त की ?

- (A) सेंट जॉर्ज (B) लॉर्ड कॉर्नवालिस  
(C) लॉर्ड इरविन (D) सर थॉमस रो

6 The demand for 'Purna Swaraj' was committed in which session of Congress? 1

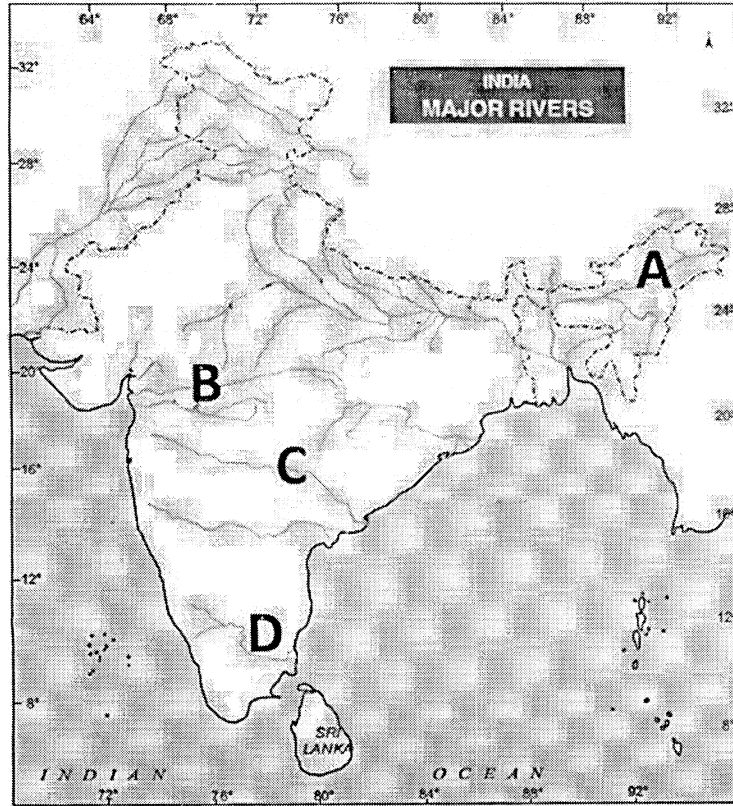
- (A) Nagpur session in December 1920  
(B) Chennai session in 1927  
(C) Kolkata session in September 1920  
(D) Lahore session in 1929

'पूर्ण स्वराज' की मांग कांग्रेस के किस अधिवेशन में की गई थी ?

- (A) दिसंबर 1920 में नागपुर अधिवेशन  
(B) 1927 में चेन्नई अधिवेशन  
(C) सितंबर 1920 में कोलकाता अधिवेशन  
(D) 1929 में लाहौर अधिवेशन

Study the given map carefully and answer the questions from 7 to 10.

दिए गए मानचित्र का ध्यानपूर्वक अध्ययन कीजिए और प्रश्न संख्या 7 से 10 तक का उत्तर दीजिए।



7 Identify the river marked as 'A' in the map. 1

- (A) The Kaveri river (B) The Brahmaputra river  
(C) The Luni river (D) The Godavari river

मानचित्र में 'A' के रूप में चिन्हित नदी की पहचान कीजिए।

- (A) कावेरी नदी (B) ब्रह्मपुत्र नदी  
(C) लूनी नदी (D) गोदावरी नदी

8 Identify the river marked as 'B' in the map : 1

- (A) The Sabarmati river (B) The Brahmaputra river  
(C) The Narmada river (D) The Godavari river

मानचित्र में 'B' के रूप में चिन्हित नदी की पहचान कीजिए।

- (A) साबरमती नदी (B) ब्रह्मपुत्र नदी  
(C) नर्मदा नदी (D) गोदावरी नदी



9 Identify the river marked as 'C' in the map: 1

- (A) The Kaveri river (B) The Luni river  
(C) The Narmada river (D) The Godavari river

मानचित्र में 'C' के रूप में चिन्हित नदी की पहचान कीजिए।

- (A) कावेरी नदी (B) लूनी नदी  
(C) नर्मदा नदी (D) गोदावरी नदी

10 Identify the river marked as 'D' in the map: 1

- (A) The Kaveri river (B) The Luni river  
(C) The Narmada river (D) The Godavari river

मानचित्र में 'D' के रूप में चिन्हित नदी की पहचान कीजिए।

- (A) कावेरी नदी (B) लूनी नदी  
(C) नर्मदा नदी (D) गोदावरी नदी

**Note :** The following questions are for visually impaired candidates only in lieu of Q. No. 7 to 10.

नोट : निम्नलिखित प्रश्न केवल दृष्टिबाधित परीक्षार्थियों के लिए प्रश्न संख्या 7 से 10 के स्थान पर हैं।

7 Guwahati is situated on which one from the following rivers? 1

- (A) The Meghna river (B) The Brahmaputra river  
(C) The Ganga river (D) The Godavari river

'गुवाहाटी' निम्नलिखित नदियों में से किस पर स्थित है ?

- (A) मेघना नदी (B) ब्रह्मपुत्र नदी  
(C) गंगा नदी (D) गोदावरी नदी

8 Which one from the following rivers flow into Arabian sea ? 1

- (A) The Kaveri river (B) The Brahmaputra river  
(C) The Narmada river (D) The Godavari river

निम्नलिखित में से कौन सी नदी अरब सागर में मिलती है ?

- (A) कावेरी नदी (B) ब्रह्मपुत्र नदी  
(C) नर्मदा नदी (D) गोदावरी नदी

9 Which one from the following is the longest river of southern India ? 1

- (A) The Kaveri river (B) The Luni river  
(C) The Narmada river (D) The Godavari river

निम्नलिखित में से कौन सी दक्षिणी भारत की सबसे लंबी नदी है ?

- (A) कावेरी नदी (B) लूनी नदी  
(C) नर्मदा नदी (D) गोदावरी नदी

10 Which one of the following rivers flows in the southernmost part of India ? 1

- (A) The Kaveri river (B) The Krishna river  
(C) The Godavari river (D) The Mahanadi river

निम्नलिखित में से कौन सी नदी भारत के सबसे दक्षिणी भाग में बहती है ?

- (A) कावेरी नदी (B) कृष्णा नदी  
(C) गोदावरी नदी (D) महानदी

11 Human Development Index has been used by which one of the following organisation to prepare its annual human development report ? 1

- (A) World Health Organisation (WHO)  
(B) United Nation Organisation (UNO)  
(C) United Nation Development Programme (UNDP)  
(D) World Trade Organisation (WTO)

निम्नलिखित में से किस संगठन द्वारा अपनी वार्षिक मानव विकास रिपोर्ट तैयार करने के लिए मानव विकास सूचकांक का उपयोग किया गया है ?

- (A) विश्व स्वास्थ्य संगठन (WHO)  
(B) संयुक्त राष्ट्र संगठन (UNO)  
(C) संयुक्त राष्ट्र विकास कार्यक्रम (UNDP)  
(D) विश्व व्यापार संगठन (WTO)

- 12 Which latitude represents the southernmost point of the mainland of India? 1  
 (A) 8° 4' North Latitude (B) 8° 4' South Latitude  
 (C) 18° 45' South Latitude (D) 18° 45' North Latitude  
 कौन-सा अक्षांश भारत की मुख्य भूमि के सबसे दक्षिणी बिंदु को दर्शाता है ?  
 (A) 8° 4' उत्तरी अक्षांश (B) 8° 4' दक्षिण अक्षांश  
 (C) 18° 45' दक्षिण अक्षांश (D) 18° 45' उत्तरी अक्षांश
- 13 A person in urban areas need an average of how many calories per day 1  
 in order to keep himself/herself above the poverty line ?  
 शहरी क्षेत्रों में एक व्यक्ति को स्वयं को गरीबी रेखा से ऊपर रखने के लिए प्रतिदिन औसतन कितनी  
 कैलोरी की आवश्यकता होती है ?  
 (A) 2400 (B) 2300  
 (C) 2200 (D) 2100
- 14 In which one among the following states of India 'Lohari' festival is 1  
 celebrated ?  
 (A) Bihar (B) Punjab  
 (C) Kerala (D) Gujarat  
 भारत के निम्नलिखित में से किस राज्य में 'लोहड़ी' त्योहार मनाया जाता है ?  
 (A) बिहार (B) पंजाब  
 (C) केरल (D) गुजरात
- 15 Which river system do the Chenab, Ravi, Beas, Jhelum and Sutlej rivers 1  
 belong to?  
 (A) The Godavari river (B) The Indus River  
 (C) The Ganga River (D) The Brahmaputra River  
 चिनाब, रावी, ब्यास, झेलम और सतलुज नदियाँ किस नदी तंत्र से संबंधित हैं ?  
 (A) गोदावरी नदी (B) सिंधु नदी  
 (C) गंगा नदी (D) ब्रह्मपुत्र नदी

- 16 Who among the following founded 'Arya Samaj' ? 1
- (A) Swami Dayanand Saraswati (B) Raja Ram Mohan Roy  
(C) Ishwar Chandra Vidyasagar (D) Swami Vivekanand
- निम्नलिखित में से किसने 'आर्य समाज' की स्थापना की ?
- (A) स्वामी दयानंद सरस्वती (B) राजा राम मोहन राय  
(C) ईश्वर चंद्र विद्यासागर (D) स्वामी विवेकानंद
- 17 The standard meridian of India passes through which one from the following places? 1
- (A) Nagpur (B) Guwahati  
(C) Ambala (D) Mirzapur
- भारत की मानक मध्याह्न रेखा निम्नलिखित में से किस स्थान से होकर गुजरती है ?
- (A) नागपुर (B) गुवाहाटी  
(C) अम्बाला (D) मिर्जापुर
- 18 Which of the following political parties leads the National Democratic Alliance (NDA)? 1
- (A) Bahujan Samaj Party (B) Bharatiya Janata Party  
(C) Indian National Congress (D) Communist Party
- निम्नलिखित में से कौन सा राजनीतिक दल राष्ट्रीय जनतांत्रिक गठबंधन (NDA) का नेतृत्व करता है ?
- (A) बहुजन समाज पार्टी (B) भारतीय जनता पार्टी  
(C) भारतीय राष्ट्रीय कांग्रेस (D) कम्युनिस्ट पार्टी
- 19 Which one from the following order of Trans-Himalayas mountain ranges from north to south is correct? 1
- (A) Karakoram, Zaskar, Ladakh (B) Karakoram, Ladakh, Zaskar  
(C) Ladakh Zaskar, Karakoram (D) Zaskar, Ladakh, Karakoram
- ट्रांस-हिमालय पर्वत शृंखलाओं का निम्नलिखित में से कौन सा उत्तर से दक्षिण तक क्रम सही है ?
- (A) काराकोरम, जास्कर, लद्दाख (B) काराकोरम, लद्दाख, जास्कर  
(C) लद्दाख, जास्कर, काराकोरम (D) जास्कर, लद्दाख, काराकोरम

20 In Bay of Bengal, usually tropical cyclones occur during which one from the following seasons ? 1

- (A) Hot weather season
- (B) Cold weather season
- (C) Retreating monsoon season
- (D) Advancing south-west monsoon season

बंगाल की खाड़ी में, आमतौर पर उष्णकटिबंधीय चक्रवात निम्नलिखित में से किस मौसम के दौरान आते हैं ?

- (A) ग्रीष्म ऋतु
- (B) शीत ऋतु
- (C) लौटते हुए मानसून ऋतु
- (D) दक्षिण-पश्चिम मानसून की ऋतु

21 Complete the following sentence with the help of suitable words: 1×2=2

The Vidhan \_\_\_\_\_ is a permanent house, and hence it is not dissolved.

Members are elected / nominated for a period of \_\_\_\_\_ years.

उपयुक्त शब्दों की सहायता से निम्नलिखित वाक्य को पूरा कीजिए:

विधान \_\_\_\_\_ एक स्थायी सदन है, और इसलिए यह भंग नहीं होता है। सदस्यों को \_\_\_\_\_ वर्ष की अवधि के लिए निर्वाचित/नामांकित किया जाता है।

22 Fill in the blanks : 1×2=2

(a) The Khilafat movement started by the Muslims and the \_\_\_\_\_ movement led by Gandhiji merged into one confrontation against the British government.

(b) Hindus and \_\_\_\_\_ tied rakhi on each other's hand to show their unity and their protest.

रिक्त स्थानों की पूर्ति कीजिए।

(a) मुसलमानों द्वारा शुरू किया गया खिलाफत आंदोलन और गाँधीजी के नेतृत्व में \_\_\_\_\_ आंदोलन ब्रिटिश सरकार के खिलाफ एक साथ मिलकर आगे बढ़े।

(b) हिंदुओं और \_\_\_\_\_ ने अपनी एकता और अपना विरोध दिखाने के लिए एक-दूसरे के हाथ पर राखी बांधी।

23 Complete the following sentence with the help of suitable words: 1×2=2

The word Monsoon is derived from the Arabic word \_\_\_\_\_ which means \_\_\_\_\_.

उपयुक्त शब्दों की सहायता से निम्नलिखित वाक्य को पूरा कीजिए:

मानसून शब्द अरबी शब्द \_\_\_\_\_ से लिया गया है जिसका अर्थ है \_\_\_\_\_।

24 Complete the following sentence with the help of any one from given options : 1×2=2

India accounts \_\_\_\_\_ of the total world land area and \_\_\_\_\_ latitude passes through almost centre of the nation.

**Options :**

(A) 4.42%, 33° 30' North (B) 4.24%, 33° 30' South

(C) 2.42%, 23° 30' North (D) 2.42%, 23° 30' South

दिए गए विकल्पों में से किसी एक की सहायता से निम्नलिखित वाक्य को पूरा कीजिए:

विश्व के कुल क्षेत्रफल का \_\_\_\_\_ भारत में है और \_\_\_\_\_ अक्षांश देश के लगभग केन्द्र से होकर गुजरता है।

**विकल्प:**

(A) 4.42%, 33° 30' उत्तर (B) 4.24%, 33° 30' दक्षिण

(C) 2.42%, 23° 30' उत्तर (D) 2.42%, 23° 30' दक्षिण

25 Fill in the blanks: 1×2=2

(a) Annie Besant became the president of the \_\_\_\_\_ society in 1907.

(b) \_\_\_\_\_ established the 'Mukti Mission' in Pune, a refuge for young widows who had been deserted and abused by their families.

रिक्त स्थानों की पूर्ति कीजिए:

(a) एनी बेसेंट 1907 में \_\_\_\_\_ सोसायटी की अध्यक्ष बनीं।

(b) \_\_\_\_\_ ने पुणे में 'मुक्ति मिशन' की स्थापना की, जो उन युवा विधवाओं के लिए एक आश्रय स्थल था, जिन्हें उनके परिवारों द्वारा छोड़ दिया गया था और उनके साथ दुर्व्यवहार किया गया था।

26 Tick the sentences as True or False:

1×2=2

- (a) The American War of Independence and the French Revolution popularised the feeling of nationalism all over the world.
- (b) The revolutionaries were inspired by the ideas of many Enlightenment thinkers and philosophers such as Voltaire, Montesquieu and Rouseau.

वाक्यों पर सही या गलत पर निशान लगाएँ:

- (a) अमेरिकी स्वतंत्रता संग्राम और फ्रांसीसी क्रांति ने राष्ट्रवाद की भावना को पूरी दुनिया में लोकप्रिय बना दिया।
- (b) क्रांतिकारी कई प्रबुद्ध विचारकों और दार्शनिकों जैसे वोल्टेयर, मोंटेस्क्यू और रूसो के विचारों से प्रेरित थे।

27 Match column 'A' with column 'B' correctly:

1×2=2

**Column 'A'**

**Column 'B'**

- |                         |                        |
|-------------------------|------------------------|
| (a) Arya Mahila Samaj   | (i) Raja Ram Mohan Roy |
| (b) Satya Shodhak Samaj | (ii) Pandita Ramabai   |
| (c) Ramakrishna Mission | (iii) Jyotiba Phule    |
| (d) Brahma Samaj        | (iv) Swami Vivekanand  |

कॉलम 'A' का कॉलम 'B' से सही मिलान कीजिए:

**कॉलम 'A'**

**कॉलम 'B'**

- |                     |                       |
|---------------------|-----------------------|
| (a) आर्य महिला समाज | (i) राजा राम मोहन राय |
| (b) सत्य शोधक समाज  | (ii) पंडिता रमाबाई    |
| (c) रामकृष्ण मिशन   | (iii) ज्योतिबा फुले   |
| (d) ब्रह्म समाज     | (iv) स्वामी विवेकानंद |

28 Identify the name about whom the sentence is related with : 1×2=2

- (a) He was fearless and believed in the urgent need for unification of Germany. His policy came to be known as 'Blood and Iron' policy.
- (b) He and his wife, Savitribai Phule, are most known for their efforts to educate women and the lower caste as well as masses.

उस नाम को पहचानें जिससे ये वाक्य संबंधित हैं:

- (a) वह निडर था और जर्मनी के एकीकरण की तत्काल आवश्यकता में विश्वास करता था। उनकी नीति को 'रक्त और लौह' नीति के रूप में जाना जाता है।
- (b) वो और उनकी पत्नी, सावित्रीबाई फुले, महिलाओं और निचली जाति के साथ-साथ जनता को शिक्षित करने के अपने प्रयासों के लिए जाने जाते हैं।

29 Complete the following sentence with the help of any one from 1×2=2  
given options :

The \_\_\_\_\_ Revolution tore down the medieval structures of Europe and brought in new ideas of liberalism and nationalism. France witnessed a complete change in the government, administration, military, society and culture. France became a republic under \_\_\_\_\_ Bonaparte.

**Option :**

- (A) American, Bismarck (B) French, Napoleon  
(C) Russian, Lenin (D) French, Bismarck

दिए गए विकल्पों में से किसी एक की सहायता से निम्नलिखित वाक्य को पूरा कीजिए:

\_\_\_\_\_ क्रांति ने यूरोप की मध्ययुगीन संरचनाओं का अंत किया और उदारवाद, राष्ट्रवाद के नए विचारों से फ्रांस में एक पूर्ण परिवर्तन, प्रशासन, सेना, समाज और संस्कृति में परिवर्तन हुआ। फ्रांस \_\_\_\_\_ बोनापार्ट के तहत एक गणतंत्र बन गया।

**विकल्प:**

- (A) अमेरिकी, बिस्मार्क (B) फ्रांसीसी, नेपोलियन  
(C) रूसी, लेनिन (D) फ्रांसीसी, बिस्मार्क

30 Tick the sentences as True or False :

1×2=2

- (a) Regional political parties have emerged to fulfil regional aspirations.  
(b) At present in India, there is two party system.

वाक्यों पर सही या गलत पर निशान लगाएँ:

- (a) क्षेत्रीय राजनीतिक दल क्षेत्रीय आकांक्षाओं को पूरा करने के लिए उभरे हैं।  
(b) वर्तमान समय में भारत में द्विदलीय व्यवस्था है।

31 Complete the following sentence with the help of suitable words:

1×2=2

If a vacancy is caused because of resignation or removal or \_\_\_\_\_ of the President then Vice President acts as the \_\_\_\_\_.

उपयुक्त शब्दों की सहायता से निम्नलिखित वाक्य को पूरा कीजिए:

राष्ट्रपति के त्यागपत्र देने, राष्ट्रपति को हटाने अथवा राष्ट्रपति की \_\_\_\_\_ के कारण रिक्त हुए पद पर उपराष्ट्रपति \_\_\_\_\_ की भांति कार्य करता है।

32 Fill in the blanks :

1×2=2

- (a) A judge of the Supreme Court can be removed through the process of \_\_\_\_\_.  
(b) The ultimate power of interpreting the Indian Constitution lies with the \_\_\_\_\_ Court.

रिक्त स्थानों की पूर्ति कीजिए:

- (a) \_\_\_\_\_ की प्रक्रिया के माध्यम से सर्वोच्च न्यायालय के न्यायाधीश को हटाया जा सकता है।  
(b) भारतीय संविधान की व्याख्या करने की अंतिम शक्ति \_\_\_\_\_ न्यायालय के पास है।

33 Fill in the blanks :

1×2=2

- (a) A practice where a person compelled to serve without any payment is called \_\_\_\_\_.
- (b) No bill can become a law unless it is signed by the \_\_\_\_\_.

रिक्त स्थानों की पूर्ति कीजिए:

- (a) ऐसी प्रथा जहां किसी व्यक्ति को बिना किसी भुगतान के सेवा करने के लिए मजबूर किया जाता है उसे \_\_\_\_\_ कहा जाता है।
- (b) कोई भी विधेयक तब तक कानून नहीं बन सकता जब तक उस पर \_\_\_\_\_ के हस्ताक्षर न हों।

34 Complete the following sentence with the help of suitable words :

1×2=2

The Prime Minister is appointed by the President but the President has to invite only that person to be the \_\_\_\_\_ who is the \_\_\_\_\_ of the majority in Lok Sabha.

उपयुक्त शब्दों की सहायता से निम्नलिखित वाक्य को पूरा कीजिए :

प्रधान मंत्री की नियुक्ति राष्ट्रपति द्वारा की जाती है लेकिन राष्ट्रपति को केवल उसी व्यक्ति को \_\_\_\_\_ के रूप में आमंत्रित करना होता है, जो लोकसभा में बहुमत का \_\_\_\_\_ होता है।

35 Complete the following sentence with the help of suitable words :

1×2=2

The Judges of High Court hold office till they attain the age of \_\_\_\_\_ years. However, a Chief Justice or a Judge can resign. A Judge can be removed from office through an \_\_\_\_\_ process by parliament on grounds of proved misbehaviour or incapacity.

उपयुक्त शब्दों की सहायता से निम्नलिखित वाक्य को पूरा कीजिए:

उच्च न्यायालय के न्यायाधीश \_\_\_\_\_ वर्ष की आयु प्राप्त करने तक पद पर बने रहते हैं। हालाँकि, एक मुख्य न्यायाधीश या न्यायाधीश इस्तीफा दे सकते हैं। साबित कदाचार या अक्षमता के आधार पर एक न्यायाधीश को संसद द्वारा \_\_\_\_\_ प्रक्रिया के माध्यम से पद से हटाया जा सकता है।

**SECTION - B**

**खण्ड – ब**

- 36** Why are Civil Society Organizations considered a new form of mass pressure tactics ? Explain any two points. **2**

सिविल सोसायटी संगठनों को भारत में सामूहिक दबाव प्रणाली का एक नया रूप क्यों माना जाता है ? किन्हीं दो कारणों को स्पष्ट कीजिए।

- 37** Find out the minimum number of states which you need to cross, if you want to move from Gujarat to Assam by road. **2**

यदि आप सड़क द्वारा गुजरात से असम जाना चाहते हैं तो पता करें कि आपको कम से कम कितने राज्यों को पार करना होगा ?

- 38** Describe Jaintia and Garo Rebellion in brief. **2**

जयन्तिया और गारो विद्रोह का संक्षेप में वर्णन कीजिए।

- 39** Mention any two qualifications needed to be elected as a member of Rajya Sabha. **2**

राज्य सभा का सदस्य निर्वाचित होने के लिए किन्हीं दो योग्यताओं का उल्लेख कीजिए। **2**

**OR / अथवा**

Mention any two qualifications required to be elected as the President of India.

भारत के राष्ट्रपति के रूप में चुने जाने के लिए किन्हीं दो आवश्यक योग्यताओं का उल्लेख कीजिए।

40 Why children were preferred as worker in coal mines during 18<sup>th</sup> century ? 2

Explain any two points:

18 वीं शताब्दी के दौरान कोयला खदानों में श्रमिक के रूप में बच्चों को प्राथमिकता क्यों दी गई? किन्हीं दो कारणों को स्पष्ट कीजिए।

**OR / अथवा**

Explain the meaning of Imperialism.

‘साम्राज्यवाद’ के अर्थ को स्पष्ट कीजिए।

41 Explain any two measures for economic empowerment of socially 2

disadvantaged groups in India.

भारत में सामाजिक रूप से वंचित समूहों के आर्थिक सशक्तीकरण के किन्हीं दो उपायों को स्पष्ट कीजिए।

**OR / अथवा**

Explain the inequality of per capita income in India in two points.

भारत में प्रति व्यक्ति आय की असमानता को दो बिंदुओं में स्पष्ट कीजिए।

42 Explain any three immediate consequences of the First World War. 3

प्रथम विश्व युद्ध के तीन तात्कालिक परिणाम की व्याख्या कीजिए।

43 Suggest any three corrective measures for ‘universal literacy’ 3

(Education for all).

सार्वभौमिक साक्षरता (सबके लिए शिक्षा) के लिए किन्हीं तीन सुधारात्मक उपायों को सुझाइए।

- 44 How casteism is a challenge to Indian democracy ? Explain in any three points. 3

जातिवाद भारतीय लोकतंत्र के लिए किस प्रकार एक चुनौती है ? किन्हीं तीन बिन्दुओं में स्पष्ट कीजिए।

**OR / अथवा**

How criminalization of politics is a challenge to Indian democracy ? Explain in any three points.

राजनीति का अपराधीकरण भारतीय लोकतंत्र के लिए किस प्रकार एक चुनौती है ? किन्हीं तीन बिन्दुओं में स्पष्ट कीजिए।

- 45 How is terrorism a challenge in Indian democracy? Explain in three points. 3

आतंकवाद किस प्रकार भारतीय लोकतंत्र के समक्ष चुनौति है ? तीन बिंदुओं में स्पष्ट कीजिए।

- 46 Explain any three reasons of the uneven distribution of rainfall in India. 3

भारत में वर्षा के असमान वितरण के किन्हीं तीन कारणों को स्पष्ट कीजिए।

**OR / अथवा**

Explain in any three features of the Central highland in India.

भारत में केन्द्रीय उच्चभूमि की किन्हीं तीन विशेषताओं को स्पष्ट कीजिए।

- 47 Describe in any three executive powers of Governor in India. 3

भारत में राज्यपाल की किन्हीं तीन कार्यपालिका संबंधी शक्तियों का वर्णन कीजिए।

**OR / अथवा**

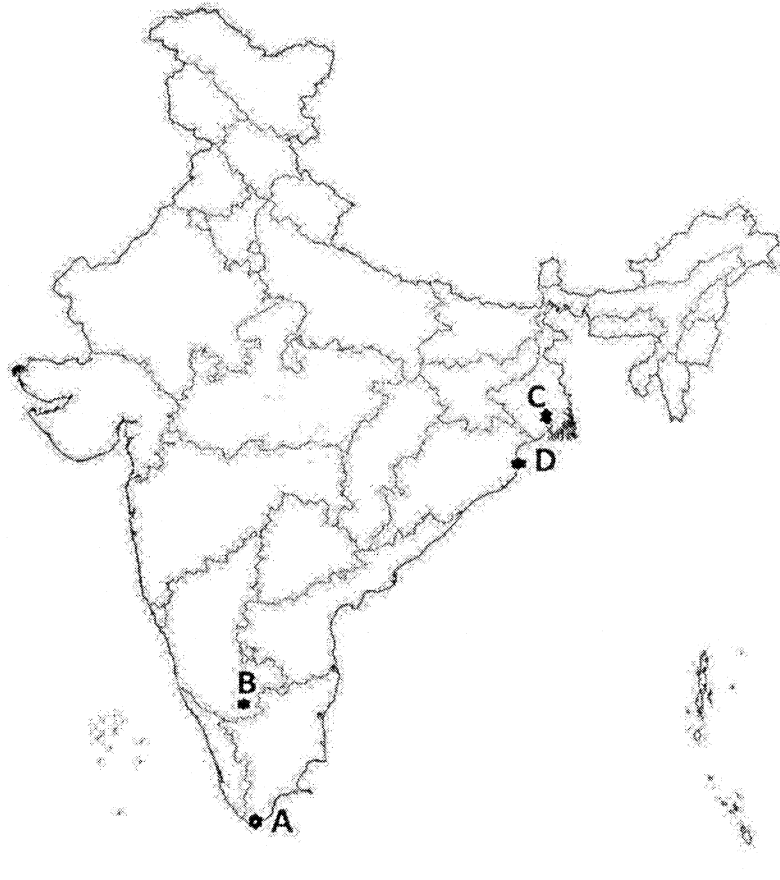
Explain in any three executive powers of the President in India.

भारत में राष्ट्रपति की किन्हीं तीन कार्यपालिका संबंधी शक्तियों का वर्णन कीजिए।

48 The following four places related to the transportation facilities in India 1×4=4 are marked as A, B, C and D on the given outline political map of India. Identify these places with the help of the following information and write their correct names.

भारत के दिए गए रूपरेखा राजनीतिक मानचित्र पर भारत में परिवहन सुविधाओं से संबंधित निम्नलिखित चार स्थानों को A, B, C और D के रूप में चिह्नित किया गया है। निम्नलिखित जानकारी की सहायता से इन स्थानों को पहचानें और उनके सही नाम लिखें।

- (A) The southernmost terminal station of North-South Corridor  
उत्तर-दक्षिण गलियारे का सबसे दक्षिणी टर्मिनल स्टेशन
- (B) An international airport in Karnataka.  
कर्नाटक में एक अंतर्राष्ट्रीय हवाई अड्डा
- (C) An international airport in West Bengal.  
पश्चिम बंगाल में एक अंतर्राष्ट्रीय हवाई अड्डा
- (D) A major seaport in Odisha.  
ओडिशा में एक प्रमुख बंदरगाह



**Following questions are for Visually Impaired Candidates only in lieu of**

**Q. No. 48.**

निम्नलिखित प्रश्न केवल दृष्टिबाधित परीक्षार्थियों के लिए प्रश्न संख्या 48 के स्थान पर है।

(A) Name the southernmost terminal station of North-South Corridor.

उत्तर-दक्षिण गलियारे का सबसे दक्षिणी टर्मिनल स्टेशन का नाम लिखिए।

(B) Name the place where an international airport is located in Karnataka.

उस स्थान का नाम लिखिए जहाँ कर्नाटक में एक अंतर्राष्ट्रीय हवाई अड्डा स्थित है।

(C) Name the place where an international airport is located in West Bengal.

उस स्थान का नाम लिखिए जहाँ पश्चिम बंगाल में एक अंतर्राष्ट्रीय हवाई अड्डा स्थित है।

(D) Name the place where major sea port is located in Odisha.

उस स्थान का नाम लिखिए जहाँ ओडिशा में एक प्रमुख बंदरगाह स्थित है।

**49** In the given political outline map of India mark and label the following with appropriate symbols:

**4**

भारत के राजनीतिक रेखा मानचित्र में निम्नलिखित को उचित चिह्नों से अंकित कीजिए और उनके नाम लिखिए:

(I) Indira Gandhi International Airport

इंदिरा गांधी अंतर्राष्ट्रीय हवाई अड्डा

(II) Sabarmati River

साबरमती नदी

(III) Nilgiri Hills

नीलगिरि पहाड़ियाँ

(IV) Westernmost terminal station of Golden Quadrilateral

स्वर्णिम चतुर्भुज का सबसे पश्चिमी टर्मिनल स्टेशन

**Following questions are for Visually Impaired Candidates only in lieu of**

**Q. No. 49.**

निम्नलिखित प्रश्न केवल दृष्टिबाधित परीक्षार्थियों के लिए प्रश्न संख्या 49 के स्थान पर है।

(I) Write the name of the place where Indira Gandhi International Airport is situated ?

उस स्थान का नाम लिखें जहाँ इंदिरा गांधी अंतर्राष्ट्रीय हवाई अड्डा स्थित है।

(II) In which Indian state Sabarmati river flows ?

साबरमती नदी भारत के किस राज्य में बहती है ?

(III) Name the states where Nilgiri hills are located ?

उन राज्यों के नाम बताइए जहां नीलगिरि पहाड़ियाँ स्थित हैं।

(IV) Name the westernmost terminal station of Golden Quadrilateral.

स्वर्णिम चतुर्भुज के सबसे पश्चिमी टर्मिनल स्टेशन का नाम बताइए।

**50** Explain six major causes of Russian Revolution.

**6**

रूसी क्रांति के छः प्रमुख कारणों को स्पष्ट कीजिए।

**OR / अथवा**

Explain the Socialist movement and its impact in Russia in any six points.

रूस में समाजवादी आंदोलन और उसके प्रभावों को छः बिंदुओं में स्पष्ट कीजिए।

**51** How do interest groups differ from pressure groups ? Explain six points of differences.

**6**

हित समूह किस प्रकार दबाव समूहों से भिन्न हैं ? अंतर के छः बिंदुओं की व्याख्या कीजिए।

**OR / अथवा**

Explain the main provisions of the Right to Equality as mentioned in the Indian Constitution.

भारतीय संविधान में वर्णित समानता के अधिकार के प्रमुख प्रावधानों की व्याख्या कीजिए।



Roll No.

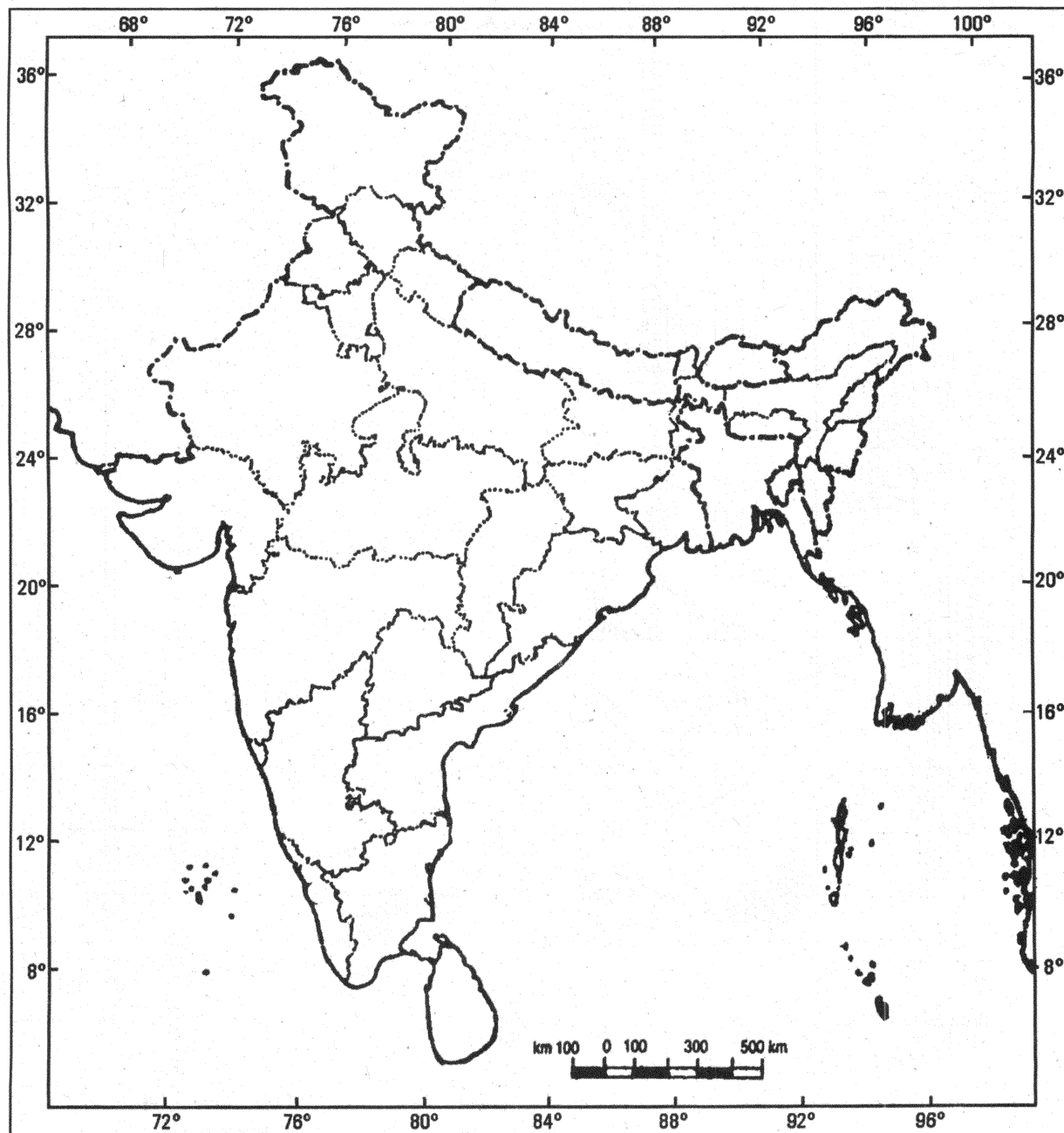
अनुक्रमांक

|  |  |  |  |  |  |  |  |  |  |  |  |  |  |  |  |  |  |  |  |
|--|--|--|--|--|--|--|--|--|--|--|--|--|--|--|--|--|--|--|--|
|  |  |  |  |  |  |  |  |  |  |  |  |  |  |  |  |  |  |  |  |
|--|--|--|--|--|--|--|--|--|--|--|--|--|--|--|--|--|--|--|--|

Map for Q. No. 49

प्रश्न सं. 49 के लिए रेखामानचित्र

भारत का रेखा-मानचित्र (राजनीतिक)  
Outline Map of India (Political)



BLANK PAGE

