

सामान्य अनुदेश :

1. परीक्षार्थी प्रश्न-पत्र के पहले पृष्ठ पर अपना अनुक्रमांक अवश्य लिखें।
2. कृपया प्रश्न-पत्र को जाँच लें कि प्रश्न-पत्र के कुल पृष्ठों तथा प्रश्नों की उतनी ही संख्या है जितनी प्रथम पृष्ठ के सबसे ऊपर छपी है। इस बात की जाँच भी कर लें कि प्रश्न क्रमिक रूप में हैं।
3. उत्तर-पुस्तिका में पहचान-चिह्न बनाने अथवा निर्दिष्ट स्थानों के अतिरिक्त कहीं भी अनुक्रमांक लिखने पर परीक्षार्थी को अयोग्य ठहराया जायेगा।
4. अपनी उत्तर-पुस्तिका पर प्रश्न-पत्र का कोड नं० 69/MAY/4, सेट [B] लिखें।
5. (क) प्रश्न-पत्र केवल हिन्दी/अंग्रेजी माध्यम में है। फिर भी, यदि आप चाहें तो नीचे दी गई किसी एक भाषा में उत्तर दे सकते हैं :
अंग्रेजी, हिन्दी, उर्दू, पंजाबी, बंगला, तमिल, मलयालम, कन्नड़, तेलुगू, मराठी, उड़िया, गुजराती, कोंकणी, मणिपुरी, असमिया, नेपाली, कश्मीरी, संस्कृत और सिन्धी।
कृपया उत्तर-पुस्तिका में दिए गए बॉक्स में लिखें कि आप किस भाषा में उत्तर लिख रहे हैं।
- (ख) यदि आप हिन्दी एवं अंग्रेजी के अतिरिक्त किसी अन्य भाषा में उत्तर लिखते हैं, तो प्रश्नों को समझने में होने वाली त्रुटियों/गलतियों की जिम्मेदारी केवल आपकी होगी।
6. प्रश्न-पत्र में किसी भी प्रकार के संदेह अथवा दुविधा की स्थिति में अंग्रेजी अनुवाद ही मान्य होगा।



BIOLOGY (Theory)

जीवविज्ञान (सिद्धान्त)

(314)

Time : 3 Hours]

[Maximum Marks : 80

समय : 3 घण्टे]

[पूर्णांक : 80

Note : (i) This Question Paper consists of **43** questions.

(ii) *All* questions are compulsory.

(iii) Marks are given against each question.

Section-A consists of Question Nos. **1** to **16** Multiple-choice type questions (MCQs) carrying *1* mark each. Select and write the most appropriate option out of the four options given in each of these questions.

Section-B consists of Question Nos. **17** to **28** Objective-type questions carrying *2* marks (with *2* sub-parts of *1* mark each). Attempt these questions as per the instructions given for each of the questions.

Section-C (subjective-type) consists of Question Nos. **29** to **37** Very short answer-type questions carrying *2* marks each to be answered in the range of *30* to *50* words.

Section-D consists of Question Nos. **38** to **41** Short answer-type questions carrying *3* marks each to be answered in the range of *50* to *80* words.

Section-E consists of Question Nos. **42** and **43** Long answer-type questions carrying *5* marks each to be answered in the range of *80* to *120* words.

Internal choices have been provided in some of these questions. You have to attempt only *one* of the given choices in such questions.

निर्देश : (i) इस प्रश्न-पत्र में कुल **43** प्रश्न हैं।

(ii) सभी प्रश्न अनिवार्य हैं।

(iii) प्रत्येक प्रश्न के अंक उसके सामने दर्शाए गए हैं।

खण्ड-क में प्रश्न संख्या **1** से **16** तक बहु-विकल्पी प्रकार (MCQ) के प्रश्न हैं। प्रत्येक प्रश्न *1* अंक का है। दिए गए चार विकल्पों में से सर्व समुचित विकल्प को उत्तर के रूप में लिखिए।

खण्ड-ख में प्रश्न संख्या **17** से **28** वस्तुनिष्ठ प्रकार के प्रश्न हैं। प्रत्येक प्रश्न *2* अंकों का है (प्रत्येक प्रश्न में *1* अंक के *2* उपप्रश्न हैं)। दिए गए निर्देशानुसार प्रश्नों के उत्तर लिखिए।

खण्ड-ग (व्यक्तिपरक-प्रकार) में प्रश्न संख्या **29** से **37** तक के प्रश्न अति लघु-उत्तरीय प्रश्न हैं। प्रत्येक प्रश्न *2* अंकों का है जिसका उत्तर लगभग *30* से *50* शब्दों का हो सकता है।



खण्ड-घ में प्रश्न संख्या **38** से **41** तक लघु-उत्तरीय प्रश्न हैं। प्रत्येक प्रश्न 3 अंकों का है जिसका उत्तर लगभग 50 से 80 शब्दों का हो सकता है।

खण्ड-ङ में प्रश्न संख्या **42** तथा **43** दीर्घ-उत्तरीय प्रश्न हैं। प्रत्येक प्रश्न 5 अंकों का है। उत्तर लगभग 80 से 120 शब्दों का हो सकता है।

कुछ प्रश्नों में आंतरिक विकल्प दिए गए हैं। आपको उनमें से केवल **एक** प्रश्न का उत्तर लिखना है।

(1) Answers of all questions are to be given in the Answer-Book given to you. सभी प्रश्नों के उत्तर आपको दी गई उत्तर-पुस्तिका में ही लिखें।

(2) 15 minutes time has been allotted to read this question paper. The question paper will be distributed at 2:15 p.m. From 2:15 p.m. to 2:30 p.m., the students will read the question paper only and will not write any answer on the Answer-Book during this period.

इस प्रश्न-पत्र को पढ़ने के लिए 15 मिनट का समय दिया गया है। प्रश्न-पत्र का वितरण दोपहर में 2:15 बजे किया जाएगा। दोपहर 2:15 बजे से 2:30 बजे तक छात्र केवल प्रश्न-पत्र को पढ़ेंगे और इस अवधि के दौरान वे उत्तर-पुस्तिका पर कोई उत्तर नहीं लिखेंगे।

SECTION-A

खण्ड-क

Note : Question Nos. **1** to **16** consist of multiple-choice type questions (MCQs) carrying 1 mark each.

निर्देश : प्रश्न संख्या **1** से **16** तक बहु-विकल्पी प्रकार (MCQ) के प्रश्न हैं। प्रत्येक प्रश्न 1 अंक का है।

1. Self-pollination is observed in pea plants as their

- (A) stamens and pistils develop at the same time (synchronous) in closed flowers
- (B) stamens and pistils develop at different times
- (C) stamens and pistils are found in different plants
- (D) male and female sex organs are found in different flowers

1

मटर के पौधों में स्वपरागण होता है, क्योंकि उनके

- (A) पुंकेसर तथा जायांग (अंडप) एक ही समय पर परिपक्व होते हैं तथा पुष्प पूरी तरह नहीं खुलते
- (B) पुंकेसर तथा जायांग (अंडप) विभिन्न समयों पर परिपक्व होते हैं
- (C) पुंकेसर तथा जायांग अलग-अलग पौधों पर पाए जाते हैं
- (D) नर तथा मादा जनन अंग विलग-विलग फूलों में पाए जाते हैं



2. Fibres of plants are made up of dead tissue like coir of coconut. The tissue is

- (A) parenchyma (B) sclerenchyma
(C) xylem (D) collenchyma 1

पौधों के रेशे मृत ऊतकों के बने होते हैं, उदाहरणतः नारियल के काँयर। ऊतक है

- (A) मृदूतक (B) दृढ़ोतक
(C) जाइलम (D) श्लेषोतक

3. Oversecretion of insulin causes

- (A) hypoglycemia (B) hyperglycemia
(C) diabetes insipidus (D) stunted growth 1

इंसूलिन के अतिस्त्रवण से होने वाला विकार (रोग) है

- (A) अल्पग्लूकोसरक्तता (हाइपोग्लाइसीमिया) (B) अतिग्लूकोसरक्तता (हाइपरग्लाइसीमिया)
(C) डायबिटीज इंसीपिडस (D) वामनता (बौनापन)

4. Cambium is a/an

- (A) apical meristem (B) intercalary meristem
(C) lateral meristem (D) complex tissue 1

कैम्बियम है एक

- (A) शीर्षस्थ विभज्योतक (B) अंतर्वेशी विभज्योतक
(C) पार्श्व विभज्योतक (D) सम्मिश्र ऊतक

5. The chemical secreted by ants while walking on a trail is

- (A) pheromone (B) TSH
(C) interferon (D) acetylcholine 1

एक कतार (रेखा) के रूप में चलने वाली चींटियाँ एक विशेष रसायन स्रावित करती हैं, वह है

- (A) फीरोमोन (B) TSH
(C) इंटरफेरोन (D) ऐसीटाइलकोलाइन

6. Which of the following is **not** a photosynthetic pigment?

1

- (A) Chlorophyll (B) Carotenoids
(C) Xanthophyll (D) Leghaemoglobin

निम्नलिखित में से कौन-सा वर्णक प्रकाश-संश्लेषी वर्णक नहीं है?

- (A) पर्णहरित (क्लोरोफिल) (B) कैरोटिनॉयड
(C) जैन्थोफिल (D) लेगहीमोग्लोबिन

7. During collection of ova from females for having test tube babies, which of the following hormones is administered?

1

- (A) FSH (B) Oxytocin
(C) Testosterone (D) Prolactin

टेस्ट ट्यूब बेबी (परखनली शिशु) प्राप्त करने के लिए स्त्रियों (महिला) से अंडाणु (अंड) मोचित कराने एवं एकत्र करने हेतु कौन-सा हॉर्मोन निवेशित किया जाता?

- (A) FSH (B) ऑक्सीटोसिन
(C) टेस्टोस्टिरॉन (D) प्रोलैक्टिन

8. Oxytocin is the hormone secreted by pituitary for

- (A) uterine contraction for childbirth (B) formation of corpus luteum
(C) ovulation (D) menstrual cycle

1

पिट्यूटरी (पीयूष) ग्रंथि द्वारा स्रावित हॉर्मोन ऑक्सीटोसिन का कार्य है

- (A) प्रसव हेतु गर्भाशय में संकुचन (B) पीत पिंड (कॉर्पस ल्युटियम) का बनना
(C) अंडोत्सर्ग (D) ऋतुस्राव



9. The types of inflorescence with one example each are given below. Identify the *wrong pair*.

1

- (A) Hypanthodium — fig (B) Umbel — coriander
(C) Cymose — wheat (D) Racemose — mustard

पुष्पक्रम के प्रकार का उसके एक उदाहरण के साथ मिलान करके निम्न रूप से दर्शाया गया है। गलत युग्म वाले विकल्प का चयन कीजिए।

- (A) हाइपैन्थोडियम — अंजीर (B) छत्रक (अम्बेल) — धनिया
(C) ससीमाक्षी — गेहूँ (D) असीमाक्षी — सरसों

10. What would be the genotype of the parents if offsprings have the phenotypes in 1 : 1 proportion?

1

- (A) Tt × Tt (B) TT × TT
(C) Tt × TT (D) Tt × tt

यदि किसी संकरण से उत्पन्न संततियों के लक्षणप्ररूप (फीनोटाइप) 1 : 1 अनुपात में हों, तो उनके जनकों का जीनी (जीनोटाइपी) प्ररूप क्या होगा?

- (A) Tt × Tt (B) TT × TT
(C) Tt × TT (D) Tt × tt

11. Bacteria are preferred in experiments of recombinant DNA technology because

- (A) bacteria have a huge single chromosome
(B) they have extranuclear chromosomes—the plasmid
(C) their chromosomes have exons and introns
(D) they have pili on their body surface

1



पुनर्योगज DNA प्रौद्योगिकी के प्रयोगों में बैक्टीरिया को वरीयता दी जाती है, क्योंकि

- (A) बैक्टीरिया में एक विशाल एकल गुणसूत्र होता है
- (B) अतिरिक्त गुणसूत्रीय अणु—'प्लाज्मिड' होते हैं
- (C) इसके गुणसूत्रों में एक्सॉन तथा इन्ट्रॉन होते हैं
- (D) इसके शरीर की सतह पर पाइलाई होते हैं

12. Elderly people often get their bones fractured during a slightest fall. The possible condition diagnosed in them is

- (A) obesity
- (B) osteomalacia/osteoporosis
- (C) anaemia
- (D) rickets

1

वृद्ध व्यक्तियों की हड्डियाँ हल्का-सा भी आघात लगने से टूट जाती हैं। इसका सर्वसंभावित (संभाव्य) कारण है

- (A) मोटापा
- (B) ऑस्टियोमैलैसिया (अस्थिमृदुता)
- (C) अरक्तता
- (D) रिकेट्स

13. Fraternal twins are produced when

- (A) two ova are fertilized by two sperms
- (B) fertilized ovum divides into two independent cells each develops into two separate individuals
- (C) ova are developed into two embryos without fertilization
- (D) twins produced from one egg fail to separate

1

अभिन्न जुड़वाँ तब उत्पन्न होते हैं जब

- (A) दो अंड दो अलग-अलग शुक्राणुओं द्वारा निषेचित होते हैं
- (B) निषेचित अंड दो में विभाजित हो जाता है तथा दोनों कोशिकाएँ स्वतंत्र रूप से परिवर्धित हो अलग-अलग व्यष्टियों को जन्म देती हैं
- (C) अनिषेचित अंड दो भ्रूण बनाते हैं
- (D) एक अंड द्वारा उत्पन्न जुड़वाँ बच्चे एक-दूसरे से अलग नहीं हो पाते



14. Cyanocobalamin is

- (A) vitamin A (B) vitamin D
(C) vitamin B₁₂ (D) vitamin C

1

सायनोकोबालेमिन है

- (A) विटामिन A (B) विटामिन D
(C) विटामिन B₁₂ (D) विटामिन C

15. Restriction enzymes are also called

- (A) ligases (B) molecular scissors
(C) isomerases (D) polymerases

1

प्रतिबंधन प्रकीर्ण (एंजाइमों) को _____ नाम से भी जाना जाता है।

- (A) लाइगेज (B) आण्विक कैंची
(C) आइसोमेरेज (D) पॉलीमेरेज

16. The important character brought into Bt cotton is

- (A) resistance towards pests (B) shiny fibre
(C) production of antibiotic (D) rich carbohydrate

1

Bt कपास में प्रतिस्थापित वांछित महत्वपूर्ण लक्षण क्या है?

- (A) पीड़क-रोधी (B) चमकदार रेशे
(C) प्रतिजैविकों का निर्माण/उत्पादन (D) कार्बोहाइड्रेट समृद्ध



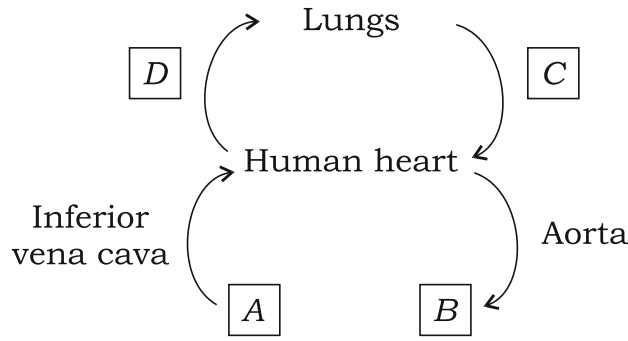
SECTION-B

खण्ड-ख

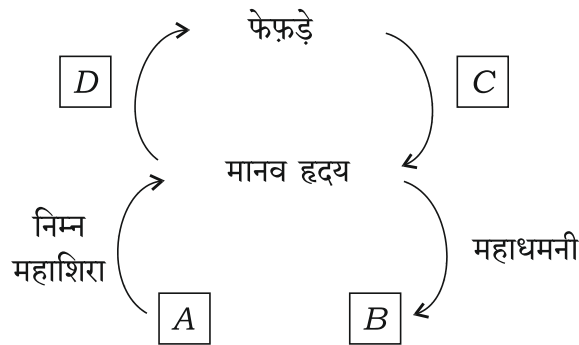
Note : Question Nos. 17 to 28 are objective-type questions carrying 2 marks each.

निर्देश : प्रश्न संख्या 17 से 28 तक वस्तुनिष्ठ प्रकार के प्रश्न हैं। प्रत्येक प्रश्न 2 अंकों का है।

17. The flow of blood is shown in diagram through heart, labelled as A, B, C and D. Identify any *two* of them. 1+1=2



निम्न चित्र में हृदय द्वारा रुधिर परिसंचरण पथ को दर्शाया गया है। दिए गए A, B, C तथा D में से किन्हीं दो स्थानों की समुचित पूर्ति कीजिए :



18. Write appropriate answers in the blanks (attempt any two) :

1×2=2

- (a) _____ tissue is protective.
(b) Blood is _____ tissue.
(c) The tissue that conducts food material in plants is _____.
(d) Palisade parenchyma is found in _____ organ.

समुचित उत्तरों द्वारा निम्नलिखित में से किन्हीं दो रिक्त स्थानों की पूर्ति कीजिए :

- (क) _____ एक रक्षी ऊतक है।
(ख) रुधिर (रक्त) एक _____ ऊतक है।
(ग) पौधों में खाद्य पदार्थों का अन्य भागों तक वहन करने वाला ऊतक है _____।
(घ) पैलीसेड ऊतक _____ अंग में पाया जाता है।

19. Match the items of Column-I by selecting suitable option from Column-II :

1+1=2

Column-I

Column-II

- (a) The largest lymphoid organ (i) Liver
(b) Bone marrow (ii) Spleen
(iii) Thyroid
(iv) Haemopoiesis

कॉलम-I में दी गई मदों के लिए कॉलम-II में दी गई मदों में से समुचित मिलान का चयन कीजिए :

कॉलम-I

कॉलम-II

- (a) सबसे बड़ी लसीकाभ ग्रन्थि (i) यकृत
(b) अस्थिमज्जा (ii) प्लीहा
(iii) थायरायड
(iv) हीमोपोइसिस (रक्तोत्पत्ति)



20. Identify the wrong statements (any two) :

1+1=2

- (a) Gametes are unicellular haploid.
- (b) Spores have haploid nucleus.
- (c) Zygotes have diploid nucleus.
- (d) Zoospores are non-motile.

गलत कथनों को पहचानिए (कोई दो) :

- (क) युग्मक अगुणित तथा एककोशिकीय होते हैं।
- (ख) बीजाणु में अगुणित केन्द्रक होता है।
- (ग) युग्मनज में द्विगुणित केन्द्रक होता है।
- (घ) जूसपोर अचर होते हैं।

21. Match the items of Column-I by selecting suitable option from Column-II :

1+1=2

Column-I

Column-II

- | | |
|----------------------|--|
| (a) Aggregate fruits | (i) Develop from inflorescence |
| (b) Simple fruits | (ii) Develop from polycarpellary ovary |
| | (iii) Develop from single ovary |
| | (iv) Parthenocarpic fruit |

कॉलम-I में दी गई मदों के लिए कॉलम-II में दी गई मदों का चयन कर समुचित मिलान कीजिए :

कॉलम-I

कॉलम-II

- | | |
|------------|---------------------------------|
| (a) पुंजफल | (i) पुष्पक्रम से विकसित |
| (b) सरलफल | (ii) बहुअंडपी अण्डाशय से विकसित |
| | (iii) एक एकल अण्डाशय से विकसित |
| | (iv) अनिषेकजनी फल |



22. Write *two* differences between DNA and RNA.

1+1=2

DNA तथा RNA के बीच दो अन्तर (विभिन्नताएँ) लिखिए।

23. Match the items given in Column-I with the suitable items given in Column-II :

2

Column-I

Column-II

(a) Acrosome

(i) Contains mitochondria

(b) Neck of sperm

(ii) Centriole

(iii) Flagellum

(iv) Contains enzymes

कॉलम-I में दिए गए मदों का कॉलम-II में दिए गए समुचित मदों के साथ मिलान कीजिए :

कॉलम-I

कॉलम-II

(a) अग्रपिंडक (एक्रोसोम)

(i) में माइटोकॉन्ड्रिया पाए जाते हैं

(b) शुक्राणु ग्रीवा

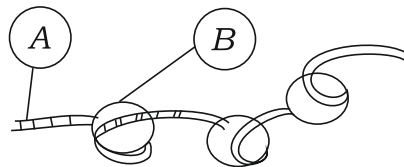
(ii) सेंट्रीयोल

(iii) कशाभ (फ्लैजलम)

(iv) में प्रकीर्णव (एंजाइम) होते हैं

24. Identify A and B from the diagram given below :

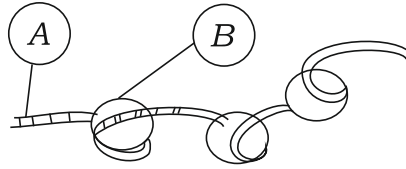
1+1=2



Nucleosome



दिए गए चित्र में A तथा B को पहचानिए तथा नामांकित कीजिए :



न्यूक्लियोसोम

25. Some people tend to take vitamins in excessive amounts. Excessive intake of water-soluble vitamin may not cause harm. But the excess amount of fat-soluble ones are poisonous to body.

(a) What is hypervitaminosis?

(b) Name *two* fat-soluble vitamins.

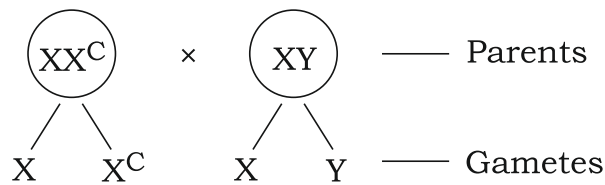
1+1=2

कुछ व्यक्तियों में विटामिनों के अत्यधिक मात्रा के सेवन करने की प्रवृत्ति होती है। जल में विलेय विटामिनों की अधिक मात्रा से संभवतः हानि न भी हो, परन्तु, वसा में विलेय विटामिनों की अधिकता शरीर के लिए हानिकारक होती है।

(क) अतिविटामिनता क्या है?

(ख) वसा में विलेय (घुलनशील) दो विटामिनों के नाम लिखिए।

26. Red-green colour blindness is a sex-linked disorder. Observe the flow chart of the disease given below :



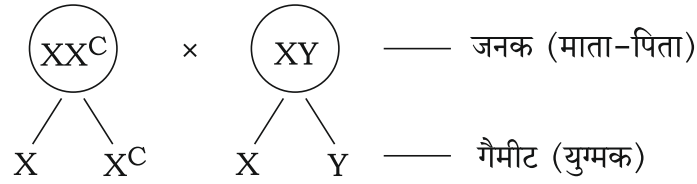
(a) Which parent is contributing the gene for colour blindness to the offspring?

(b) What are the chances of the daughters showing the disease to these parents?

1+1=2



लाल-हरी वर्णाधता एक लिंग सहलग्न विकार है। इसके प्रवाह आरेख का अध्ययन कीजिए :



(क) उपरोक्त में कौन-से जनक से वर्णाधता का जीन संतति में वंशागत हो रहा है?

(ख) इन जनकों की पुत्रियों के इस विकार से ग्रस्त होने की क्या संभाव्यता है?

27. Study the following passage and fill in the blanks with appropriate words [attempt any *two* parts from A-D] : 1+1=2

A is an association between maternal and foetal tissue. B is a tough structure which serves as the blood vascular connection between foetus and uterine wall. The embryo is enclosed in a sac called C, which is filled with D. It acts as shock absorber to protect embryo from damage.

निम्नलिखित परिच्छेद का अध्ययन करके रिक्त स्थान A, B, C तथा D में से किन्हीं दो स्थानों की पूर्ति समुचित पदों (शब्दों) द्वारा कीजिए :

A माता तथा भ्रूण के ऊतकों के बीच एक सम्बन्ध है। परिवर्धनकारी भ्रूण तथा गर्भाशय की भित्ति के बीच एक मजबूत संरचना B होती है जो परिवर्धनशील भ्रूण तथा गर्भाशय के बीच रुधिर संवहन-सम्बन्ध स्थापित करती है। भ्रूण एक थैली में बंद हो जाता है जिसे C कहते हैं। इसमें D भरा होता है जो भ्रूण को धक्कों से बचाता है तथा भ्रूण को क्षतिग्रस्त होने से बचाने में सहायक होता है।

- 28.** Given below is the sequence to succession of communities in a habitat. Fill in the gaps *A* and *B* with appropriate answer : 1+1=2

Blue-green algae \longrightarrow \boxed{A} \longrightarrow mosses \longrightarrow herbs \longrightarrow \boxed{B} \longrightarrow trees

किसी आवास में विभिन्न समुदायों के अनुक्रमण के सुव्यवस्थित अनुक्रम को निम्न रूप से दर्शाया गया है। इसमें दिए गए रिक्त स्थान *A* तथा *B* की पूर्ति समुचित उत्तर द्वारा कीजिए :

नील हरित शैवाल \longrightarrow \boxed{A} \longrightarrow माँस \longrightarrow शाक \longrightarrow \boxed{B} \longrightarrow वृक्ष

SECTION-C

खण्ड-ग

Note : Question Nos. **29** to **37** are very short answer-type questions carrying 2 marks each.

निर्देश : प्रश्न संख्या **29** से **37** तक अति लघु-उत्तरीय प्रश्न हैं। प्रत्येक प्रश्न 2 अंकों का है।

- 29.** Which tissue bears the following characters? 2

- (a) Small and compactly packed cells which divide continuously.
(b) End walls open and cells join to form a long tube having dead cell wall.

कौन-से ऊतक निम्नलिखित अभिलक्षण दर्शाते हैं?

- (क) छोटी-छोटी संहतियों के घनीभूत विभाजनशील एक सदृश्य जीवित कोशिकाओं का समूह।
(ख) मोटी कोशिका भित्ति युक्त मृत कोशिकाएँ जिनकी अंत्यभित्तियाँ खुली होती हैं और परस्पर जुड़कर लंबी नलिकाएँ बनाती हैं।

- 30.** Why are bacteria called monerans. Support your answer giving any *two* characters. 2

बैक्टीरिया को मोनेरा जगत् के अन्तर्गत क्यों रखा गया है? अपने उत्तर के समर्थन में इसके किन्हीं दो अभिलक्षणों का उल्लेख कीजिए।



Or / अथवा

Maize is a monocot plant. Give any *two* valid reasons for considering of so.

मक्का एक एकबीजपत्री पौधा है। इसको इस वर्ग में रखने के समर्थन में दो सार्थक कारण लिखिए।

- 31.** With the help of lined diagram only, show the structural components of a habitat. 2

एक रेखीय आरेख की सहायता से एक आवास के संरचनात्मक घटकों को दर्शाइए।

- 32.** Name *two* types of enzymes produced in large scale through genetic engineering. Mention *one* use of each of enzymes. 2

आनुवंशिक अभियांत्रिकी द्वारा व्यापक स्तर पर उत्पादित दो प्रकार के एंजाइमों के नाम लिखिए। प्रत्येक एंजाइम का एक उपयोग भी लिखिए।

Or / अथवा

Write the names of *two* hormones produced in large scale through recombinant DNA technology. Name one therapeutic application for each.

पुनर्योगज डी०एन०ए० प्रौद्योगिकी द्वारा व्यापक स्तर पर उत्पादित दो हॉर्मोनों के नाम लिखिए। चिकित्सीय उपचार में प्रत्येक हॉर्मोन का उपयोग लिखिए।

- 33.** Tetracycline is a broad spectrum antibiotic. Why do we say so? What is the source of it? 2

टेट्रासाइक्लीन एक व्यापक परास प्रतिजैविक (ब्रॉड स्पेक्ट्रम एंटीबायोटिक) है। टेट्रासाइक्लीन को एक व्यापक परास प्रतिजैविक (ब्रॉड स्पेक्ट्रम एंटीबायोटिक) क्यों कहते हैं? इसके स्रोत जीव का नाम लिखिए।

- 34.** Write any *four* important functions of proteins in our body. 2

हमारे शरीर में प्रोटीन के कोई चार महत्वपूर्ण प्रकार्य लिखिए।



35. Brain is covered by three membranes called _____. The space between them is filled with _____ fluid.

2

हमारा मस्तिष्क तीन झिल्लियों से आवृत होता है जिन्हें _____ कहते हैं। इनके बीच की जगह में एक तरल भरा होता है जिसे _____ कहते हैं।

36. How do immigration and emigration affect the existing population density?

2

आप्रवासन तथा उत्प्रवासन किसी वर्तमान समष्टि घनत्व को किस प्रकार प्रभावित करते हैं?

Or / अथवा

A rapidly growing population has more number of individuals of reproductive age. What is the growth pattern of the population, if more pre-reproductive individuals are present in the population?

तीव्रता से वृद्धि करती समष्टि (जनसंख्या) में जननक्षम व्यष्टियों की संख्या बहुत अधिक होती है। यदि समष्टि में जननपूर्व वर्ग के सदस्यों की संख्या अधिक हो, तो समष्टि वृद्धि का पैटर्न क्या होगा?

37. Write the names of *two* organisms belong to each one of the following groups : 2

(a) Arthropoda

(b) Aves

निम्नलिखित वर्गों में से प्रत्येक वर्ग के दो जीवों (जन्तुओं) के नाम लिखिए :

(क) संधिपाद (आर्थ्रोपोडा)

(ख) पक्षी (एवीज)



SECTION-D

खण्ड-घ

Note : Question Nos. **38** to **41** are short answer-type questions carrying 3 marks each.

निर्देश : प्रश्न संख्या **38** से **41** लघु-उत्तरीय प्रश्न हैं तथा प्रत्येक प्रश्न 3 अंकों का है।

38. (a) Briefly explain the transformation in bacteria.

(b) Why do we consider DNA replication as semiconservative? Explain briefly.

3

(क) जीवाणुक रूपांतरण की संक्षिप्त व्याख्या कीजिए।

(ख) डी०एन०ए० (DNA) प्रतिकृतियन को अर्धसंरक्षी क्यों माना जाता है? संक्षिप्त व्याख्या कीजिए।

Or / अथवा

Draw a replicating DNA molecule showing—

(a) parental strand;

(b) Okazaki fragments;

(c) leading strand;

(d) replication fork.

प्रतिकृतियन करते DNA अणु का आरेख बनाइए तथा इसमें निम्नलिखित को दर्शाइए तथा नामांकित कीजिए :

(क) जनक रज्जुक

(ख) ओकाज़ाकी खंड

(ग) लीडिंग रज्जुक

(घ) प्रतिकृति द्विशाख

39. Define the following terms :

3

(a) Amnion

(b) Demography

(c) Population growth rate

निम्नलिखित पदों की परिभाषा लिखिए :

(क) उल्ब

(ख) जनसांख्यिकी

(ग) जनसंख्या (समष्टि) वृद्धि दर

Or / अथवा

Write *three* effects of uncontrolled population growth on a nation.

अनियंत्रित उच्च जनसंख्या वृद्धि किसी देश को किस प्रकार प्रभावित करती है, इसके **तीन** प्रभाव लिखिए।

40. Write the name of *one* surgical method of contraception carried on in human males. Explain how it is performed.

3

पुरुषों (मानव नर) में गर्भनिरोध की किसी **एक** शल्यचिकित्सीय विधि का नाम लिखकर इसकी विधि की व्याख्या कीजिए।

Or / अथवा

Write the name of *one* contraception carried on in human females. Describe the procedure adopted for it.

स्त्रियों (मानव मादा) में गर्भनिरोध की किसी **एक** शल्यचिकित्सीय विधि का नाम लिखिए तथा व्याख्या कीजिए कि यह किस प्रकार सम्पन्न की जाती है।



41. Draw a neat diagram of a typical bisexual dicotyledonous flower and label its *four* whorls (parts) :

3

एक द्विबीजपत्री द्विलिंगी प्रारूपी पुष्प का साफ चित्र बनाकर इसके चार चक्रों (प्रमुख भागों) को नामांकित कीजिए।

SECTION-E

खण्ड-ड

Note : Question Nos. **42** and **43** are long answer-type questions carrying 5 marks each.

निर्देश : प्रश्न संख्या **42** तथा **43** दीर्घ-उत्तरीय प्रश्न हैं तथा प्रत्येक प्रश्न 5 अंकों का है।

42. Draw a transverse section of a dicot root and label the following parts :

5

Epiblema, cortex, endodermis, pericycle, protoxylem, metaxylem, phloem and pith

एक द्विबीजपत्री जड़ की अनुप्रस्थ काट का चित्र बनाइए तथा निम्नलिखित भागों को नामांकित कीजिए :

एपीब्लेमा, वल्कुट (कॉर्टेक्स), अंतस्त्वचा, परिरम्भ, प्रोटोजाइलम (प्राक्दारु), मेटाजाइलम, फ्लोयम तथा पिथ

Or / अथवा

(a) With the help of a diagram, describe the structure of stomatal apparatus of a dicot leaf.

(b) Where are they located in xerophytes?

(c) What are bulliform cells? Where are they found? Write *one* important function of these cells.

5

(क) एक चित्र की सहायता से एक द्विबीजपत्री पत्ती के रंध्र उपकरण की संरचना का वर्णन कीजिए।

(ख) मरुद्भिद् पौधों में वे कहाँ अवस्थित होते हैं?

(ग) बुलीफॉर्म कोशिकाएँ क्या हैं? उनकी अवस्थिति तथा एक महत्वपूर्ण कार्य का उल्लेख कीजिए।

43. Following is the information given with regard to the respiratory processes in living beings. Fill in the gaps with appropriate answers : 1×5=5

Type of respiration	Raw material	Site	Products
Aerobic	—	Cytoplasm and mitochondria	—
Anaerobic	—	—	CO ₂ + 2 ATP
Krebs cycle	—	Mitochondria	CO ₂ + NADH ₂

सजीवों में श्वसन प्रक्रम के संबंध में कुछ सूचना निम्नलिखित रूप से दी गई है। समुचित उत्तर द्वारा रिक्त स्थानों की पूर्ति कीजिए :

श्वसन का प्रकार	कच्चा पदार्थ	विस्थल	उत्पाद
वायवीय	—	कोशिकाद्रव तथा माइटोकॉन्ड्रिया	—
अवायवीय	—	—	CO ₂ + 2 ATP
क्रेब्स चक्र	—	माइटोकॉन्ड्रिया	CO ₂ + NADH ₂

Or / अथवा

Complete the following statements : 1×5=5

- (a) Muscular pain we get after prolonged exercise is due to ____.
- (b) Lenticels are found in _____. Their function is _____.
- (c) Each NADH₂ molecule produces _____ ATP molecules.
- (d) Photosynthesis is a _____ path and respiration is a catabolic path.



निम्नलिखित कथनों में रिक्त स्थानों की पूर्ति करके पूरा कीजिए :

(क) अत्यधिक व्यायाम के पश्चात् होने वाली पीड़ा का कारण है _____।

(ख) _____ में वातरंध्र पाए जाते हैं तथा इनका कार्य है _____।

(ग) प्रत्येक NADH_2 अणु से ATP के _____ अणु निर्मित होते हैं।

(घ) प्रकाश-संश्लेषण एक _____ पथ है तथा श्वसन एक अपचयी पथ है।

★ ★ ★

